

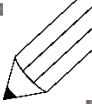


Розрахунки

1. клас

Допоможіть своїй дитині написати відповідь, якщо це необхідно, та дайте дитині можливість самостійно написати числа, якщо вона може. Учень також може вказати відповідь іншими способами, наприклад малюнком.

$5 + 3 =$ _____

$4 + 7 =$ _____ 

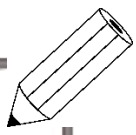
$17 + 6 =$ _____

$12 + 11 =$ _____



2. клас

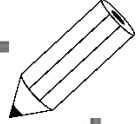
Допоможіть своїй дитині написати відповідь, якщо це необхідно, та дайте дитині можливість самостійно написати числа, якщо вона може. Учень також може вказати відповідь і іншими способами, наприклад малюнком.

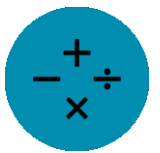
$$17 + 6 = \underline{\hspace{2cm}}$$

$$25 + 12 = \underline{\hspace{2cm}}$$
$$12 - 5 = \underline{\hspace{2cm}}$$
$$24 - 13 = \underline{\hspace{2cm}}$$



3. клас

Допоможіть своїй дитині написати відповідь, якщо це необхідно, та дайте дитині можливість самостійно написати числа, якщо вона може. Учень також може вказати відповідь і іншими способами, наприклад малюнком.

$$25 + 17 = \underline{\hspace{2cm}}$$
$$25 - 12 = \underline{\hspace{2cm}}$$

$$5 * 6 = \underline{\hspace{2cm}}$$
$$5 * 12 = \underline{\hspace{2cm}}$$



Проблемні задачі

**Числа
НАВКОЛО НАС**

Розсортуйте числа.



Двозначні, тризначні та багатозначні числа. Напишіть числа та розставте їх по величині.

5 двозначних чисел

5 тризначних чисел

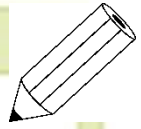
5 багатозначних чисел

© КОМАНДА ПОМАЛО!



Купівля. Що ви отримуйте назад?

Сніданок для 3 дітей. Ви маєте **100**



Торт на день народження для 4 дітей. Ви маєте **50 20 10**

Що можна купити за 200 датських крон? використання 



Продовжіть візерунки.

